

Simulare pentru EXAMENUL DE BACALAUREAT – Decembrie 2024

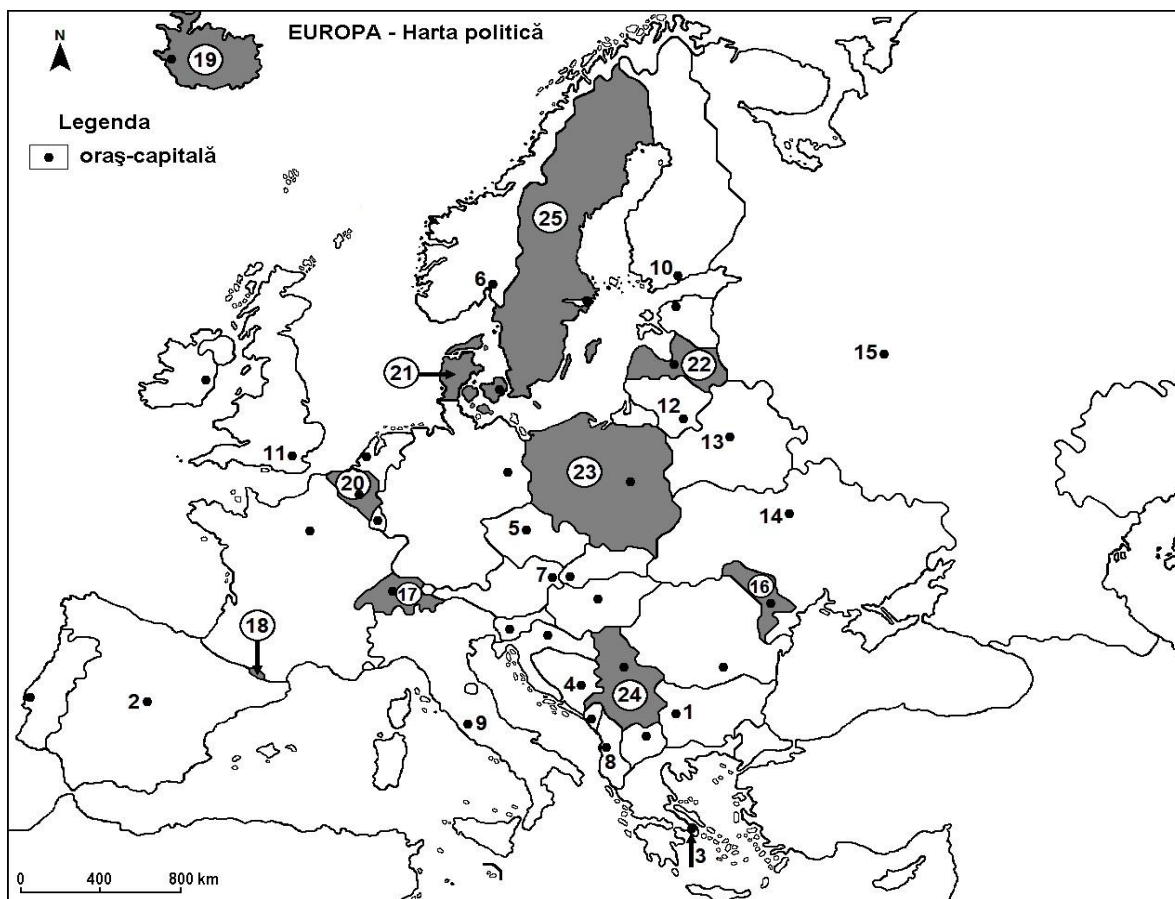
Proba E. d) – Geografie

Varianta 1

- Toate subiectele sunt obligatorii. Se acordă 10 puncte din oficiu.
- Timpul efectiv de lucru este de 3 ore.

SUBIECTUL I

(30 puncte)



Harta de mai sus se referă la subiectul I A – D. Pe hartă sunt marcate orașe - capitală cu numere de la 1 la 15 și state cu numere de la 16 la 25.

A. Precizați:

1. numele statului marcat, pe hartă, cu numărul 16;
2. numele orașului-capitală marcat, pe hartă, cu numărul 3.

4 puncte

B. Scrieți, pe foaia de examen, răspunsurile corecte care completează afirmațiile de mai jos:

1. Orașul-capitală Roma este marcat, pe hartă, cu numărul ...
2. Orașul marcat, pe hartă, cu numărul 11 este străbătut de fluviul ...
3. Meseta Spaniolă (Pod. Meseta) se află în statul al cărui oraș-capitală este marcat pe hartă, cu numărul ...

6 puncte

C. Scrieți, pe foaia de examen, litera corespunzătoare răspunsului corect pentru fiecare dintre afirmațiile de mai jos:

1. Orașul-capitală Kiev este marcat pe hartă, cu numărul:

a. 1 b. 4 c. 14 d. 2

2 puncte



2. Capitala Bulgariei este este marcată cu numărul:

- a. 1 b. 13 c. 12 d. 11

2 puncte

3. Munții Alpi se desfășoară de-a lungul statului marcat pe hartă cu numărul:

- a. 17 b. 21 c. 22 d. 16

2 puncte

4. Are ieșire la Marea Baltică statul marcat, pe hartă, cu numărul:

- a. 24 b. 19 c. 25 d. 16

2 puncte

5. Insula Creta aparține statului al carui oraș-capitală este marcat, pe hartă, cu numărul:

- a. 2 b. 3 c. 4 d. 9

2 puncte

D. Precizați trei deosebiri între **clima** statului marcat, pe hartă, cu numărul 20 și **clima** statului marcat, pe hartă, cu numărul 16.

Nota 1: Deosebirile se pot referi la oricare dintre următoarele elemente de climă: factori genetici, tip de climă, temperaturi medii anuale/vara/iarna, amplitudine termică, precipitații medii anuale/vara/iarna, vânturi cu frecvență ridicată, alte aspecte climatice.

Nota 2: Punctajul complet va fi acordat numai dacă deosebirile vor fi prezentate comparativ și nu separat.

Nota 3: Nu este necesară precizarea numelor statelor. Se poate face referire la statele respective cu numerele cu care sunt marcate pe hartă.

6 puncte

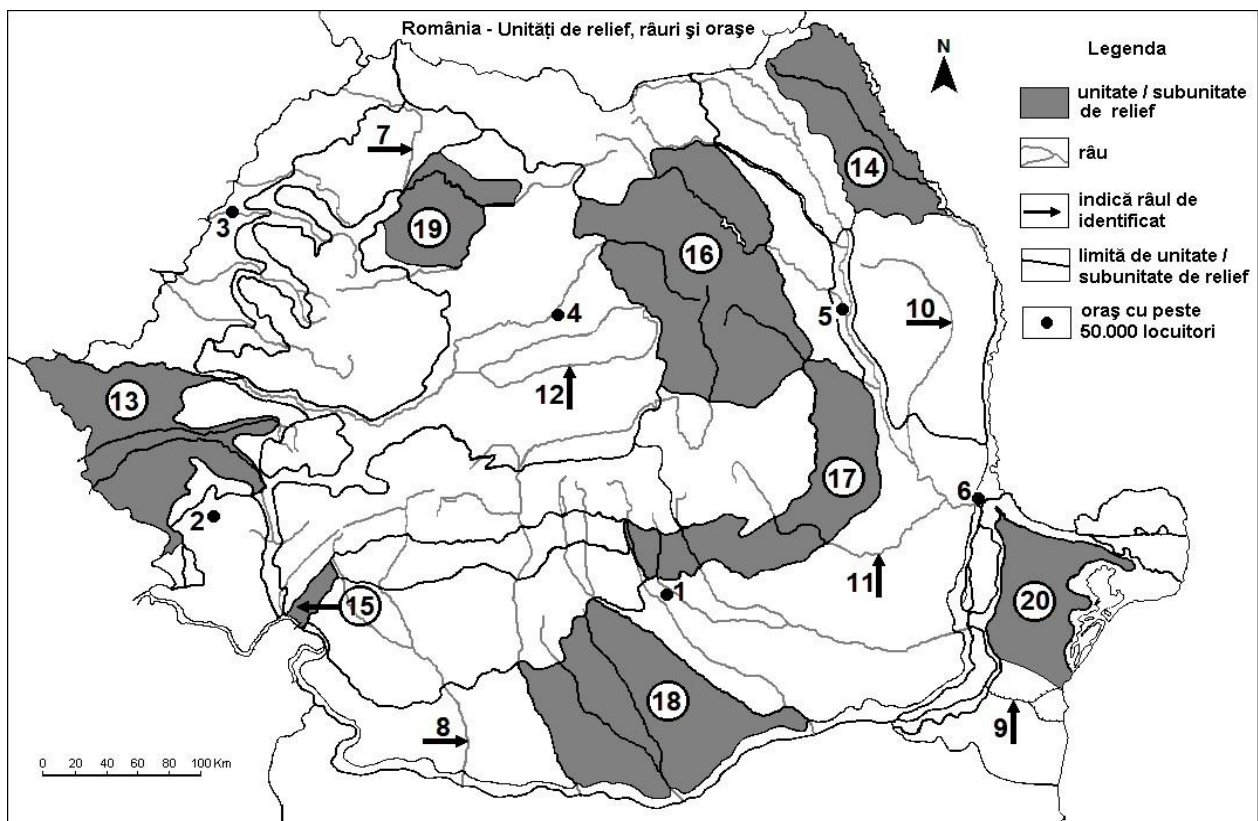
E. 1. Prezentați o cauză care explică prezența reliefului glaciatic în Munții Alpi.

2. Precizați numele a două unități de relief din statul marcat, pe hartă cu numărul 24.

4 puncte

SUBIECTUL II

(30puncte)



Harta de mai sus se referă la subiectul II A – D. Pe hartă sunt marcate orașe cu numere de la 1 la 6, râuri cu numere de la 7 la 12 și unități de relief cu numere de la 13 la 20.

A. Precizați:

1. numele unității de relief marcată, pe hartă, cu numărul 20 ;

2. numele râului marcat, pe hartă, cu numărul 10 .

4 puncte



B. Scrieți, pe foaia de examen, răspunsurile corecte care completează afirmațiile de mai jos:

1. Podișul Bârladului este situat la sud de unitatea de relief marcată pe hartă cu numărul ...
2. Face parte din Câmpia Română unitatea de relief, marcată pe hartă, cu numărul ...
3. Brize marine pătrund în unitatea de relief marcată cu numărul

6 puncte

C. Scrieți, pe foaia de examen, litera corespunzătoare răspunsului corect pentru fiecare dintre afirmațiile de mai jos:

1. Relief de vulcani noroioși întâlnim în unitatea de relief marcată, pe hartă cu numărul:

- a. 19; b. 17; c. 15; d. 14;

2 puncte

2. Un lac vulcanic există în unitatea de relief marcată, pe hartă, cu numărul:

- a. 16; b. 19; c. 17; d. 20;

2 puncte

3. Străbate Podișul Târnavelor râul marcat, pe hartă, cu numărul:

- a. 7; b. 12; c. 10; d. 11;

2 puncte

4. Păduri de conifere întâlnim în unitatea marcată pe hartă cu numărul:

- a. 13; b. 18; c. 16; d. 14;

2 puncte

5. Influențe climatice oceanice pătrund în unitatea de relief marcată cu numărul:

- a. 18; b. 19; c. 14; d. 20;

2 puncte

D. Precizați trei deosebiri între **relieful** unității marcate, pe hartă, cu numărul **16** și **relieful** unității marcate, pe hartă, cu numărul **18**.

Nota 1: Deosebirile se pot referi la oricare dintre următoarele aspecte ale reliefului: mod de formare, tipuri de roci pe care s-a format relieful, altitudini, gradul de fragmentare, tipuri genetice de relief, orientarea culmilor și a văilor principale, dispunerea depresiunilor, alte aspecte specifice ale reliefului.

Nota 2: Punctajul complet va fi acordat numai dacă cele trei deosebiri vor fi prezentate comparativ și nu separat.

Nota 3: Nu este necesară precizarea numelor unităților de relief. Se poate face referire la unitățile de relief respective cu numerele cu care sunt marcate pe hartă.

6 puncte

E. 1. Prezentați doi factori care au dus la formarea Deltei Dunării;

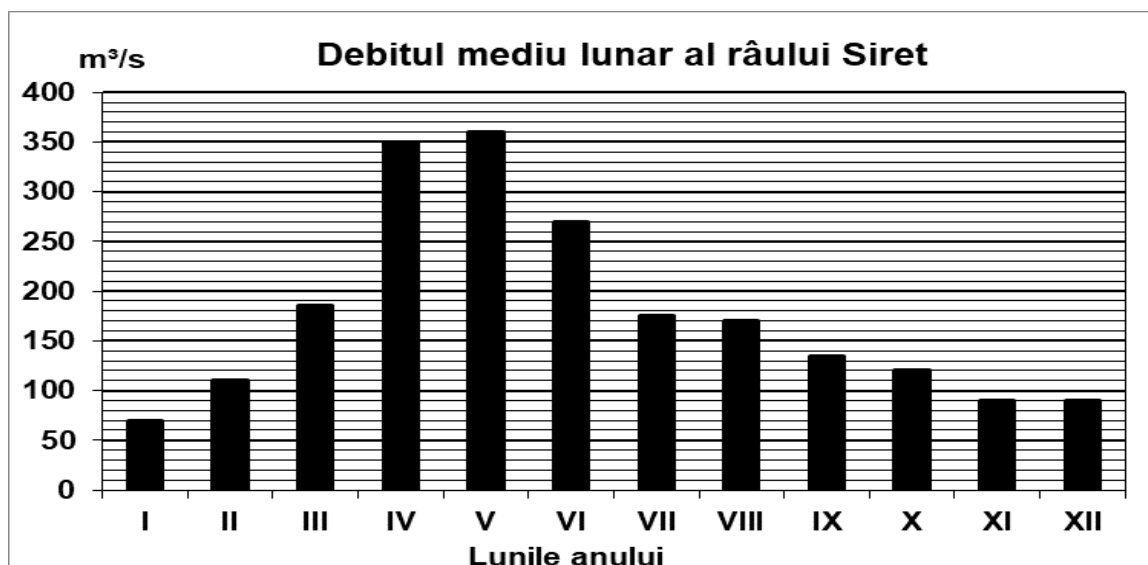
2. Precizați două resurse naturale din unitatea de relief marcată, pe hartă cu numărul 17;

4 puncte

SUBIECTUL III

(30 puncte)

Reprezentarea grafică de mai jos se referă la subiectele III A și B. Diagrama prezintă evoluția debitelor medii lunare ale râului Siret, în anul 2021.



A. Precizați:

1. luna cu cel mai mare debit și valoarea acestuia;
2. luna cu cel mai mic debit și valoarea acestuia.

4 puncte

B. Scrieți, pe foaia de examen, răspunsul corect pentru fiecare dintre cerințele de mai jos:

1. Calculați diferența dintre debitul maxim și debitul minim.
2. Prezentați o cauză a debitelor reduse din perioada noiembrie-ianuarie.
3. Prezentați o cauză a creșterii debitului în luna aprilie.

6 puncte

C. Pentru Bulgaria, precizați numele:

1. a două unități de relief;
2. a trei țări cu care se învecinează;
3. unui tip climatic;
4. unei ape curgătoare;
5. unei mări la care are ieșire ;
6. a două orașe;

10 puncte

D. Tabelul de mai jos se referă la subiectul III D și prezintă altitudinea maximă a unor lanțuri montane din Europa.

Lanțul montan	Alpi	Alpii Scandinaviei	Carpați	Pădurea Neagră	Pirinei	Ural
Altitudinea maximă	4807 m	2469 m	2655 m	1424 m	3404 m	1895 m

Precizați altitudinea maximă a munților formați în:

1. orogeneza alpină;
2. orogeneza hercinică;
3. orogeneza caledoniană/caledonice.

6 puncte

E. 1. Precizați numele a două state membre fondatoare ale Uniunii Europene.

2 puncte

2. Precizați numele a două state care au fost admise în Uniunea Europeană în anul 2007.

2 puncte